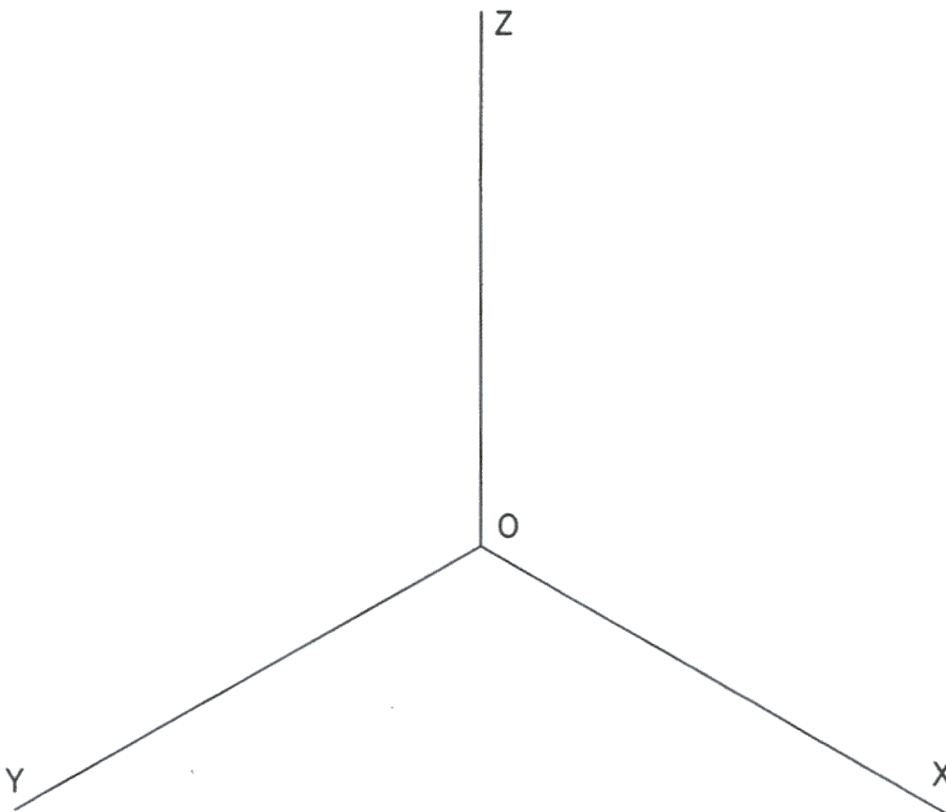
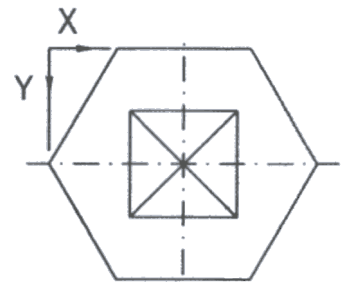
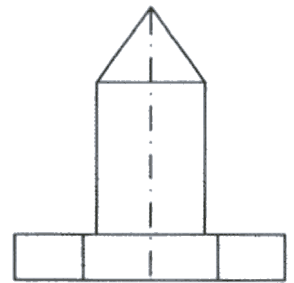


OPCIÓN II

PROBLEMA: PERSPECTIVA AXONOMÉTRICA.

Realizar la perspectiva isométrica a escala 1:5 de la torre definida por sus vistas convencionales en el sistema de proyección del primer diedro a escala 1:10.



Puntuación :

Aplicación correcta de escala y coeficiente de reducción: 0.5 puntos

Perspectiva del prisma hexagonal : 1.5 puntos

Perspectiva del prisma cuadrangular : 1.0 puntos

Perspectiva de la pirámide : 1.0 puntos

Puntuación máxima : 4.0 puntos