

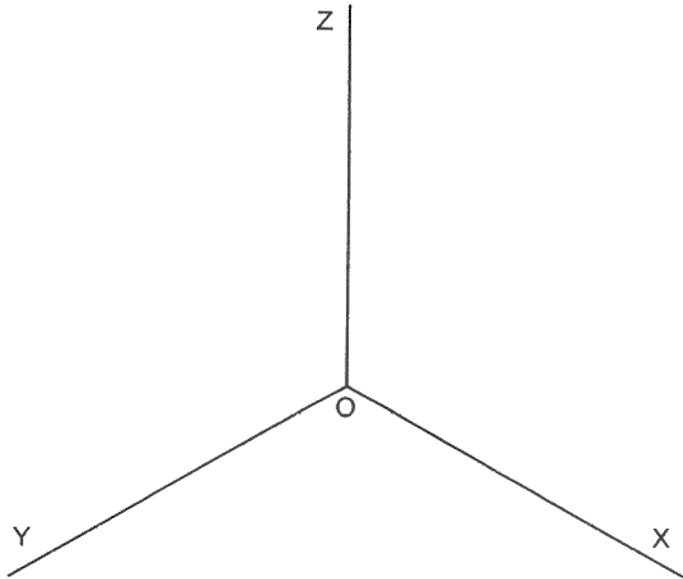
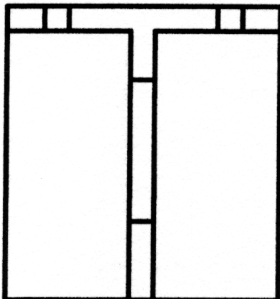
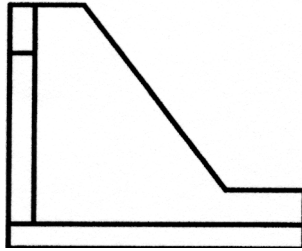
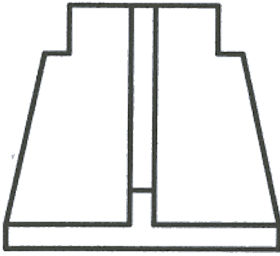
OPCIÓN I

EJERCICIO 1º: PERSPECTIVA AXONOMÉTRICA.

Dados el alzado, perfil izquierdo y planta de un sólido, según el método del primer diedro, a escala 1:2, se pide:

1.- Representar su perspectiva isométrica a escala 1:1, considerando los ejes dados.

2.- Diferenciar las aristas vistas y ocultas.



Puntuación:

Apartado 1º:

Aplicación correcta del coeficiente y escala: 0,5 pun

Perspectiva: 2,0 pun

Apartado 2º: 0,5 pun

Puntuación máxima: 3,0 pun